

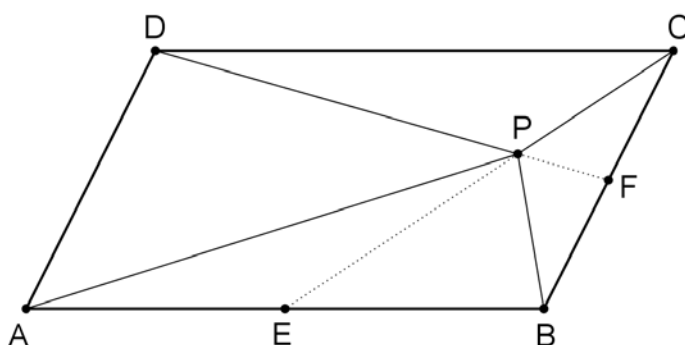
Svar på opgave 270

(Maj 2010)

Opgave:

I parallelogrammet $ABCD$ er E og F midpunkter af AB og BC . Linjerne DF og CE skærer hinanden i P .

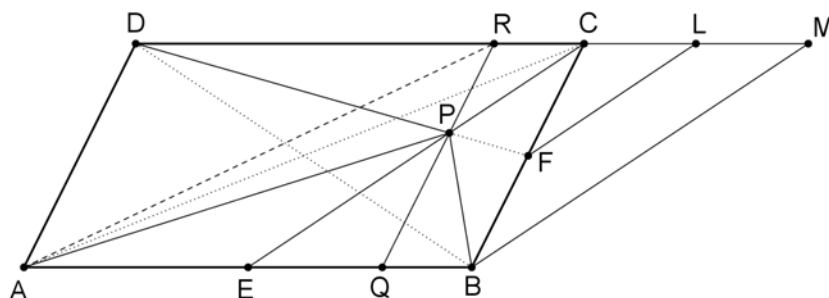
Vis, at linjestykkerne PA , PB , PC og PD deler parallelogrammet i fire trekanter, hvis arealer forholder sig som $1 : 2 : 3 : 4$.



Besvarelse:

1. metode.

Gennem F og B trækkes linjer parallelle med CE . De skærer CD i L og M . En linje gennem P parallel med BC skærer AB og CD i Q og R .



I. Da F er midtpunkt af BC og $FL \parallel BM$, er

$$2CL = CM = EB = DK.$$

Derfor er

$$DK = \frac{1}{2}DC, \quad DL = DC + CL = DC + \frac{1}{2}CM = DC + \frac{1}{4}DC,$$

hvoraf

$$\frac{DC}{DL} = \frac{DC}{\frac{5}{4}DC} = \frac{4}{5}.$$

Da $\triangle DFL$ og $\triangle DPR$ er ensvinklede, er

$$\frac{PF}{DF} = \frac{CL}{DL} = \frac{DL - DC}{DL} = 1 - \frac{DC}{DL} = 1 - \frac{4}{5} = \frac{1}{5}. \quad (1)$$

Nu har $\triangle BCP$ og $\triangle BCD$ samme grundlinje og derfor er deres arealer proportionale med stykkerne PF og DF , så hvis arealet af parallelogrammet er W , er

$$[BPC] = \frac{1}{5}[BDC] = \frac{1}{5} \cdot \frac{1}{2}W = \frac{1}{10}W$$

II. Da $\triangle DPR$ og $\triangle DFC$ er ensvinklede, er

$$\frac{DP}{DF} = \frac{DR}{DC}, \quad (2)$$

og efter (1) er $DF = 5 \cdot PF$ så

$$\frac{DP}{DF} = \frac{DF - PF}{DF} = \frac{5 \cdot PF - PF}{5 \cdot PF} = \frac{4}{5}. \quad (3)$$

Da $\triangle ARD$ og $\triangle APD$ har fælles grundlinje AD og $PR \parallel AD$, er

$$[APD] = [ARD].$$

Da vi efter (2) og (3) har, at

$$\frac{DR}{DC} = \frac{4}{5},$$

gælder for $\triangle ARC$ og $\triangle ABC$, at

$$[APD] = [ARD] = \frac{4}{5}[ADC] = \frac{4}{5} \cdot \frac{1}{2}W = \frac{4}{10}W.$$

III. Vi har, at

$$[BPC] = \frac{1}{10}W \quad \text{så} \quad [CPE] = \frac{1}{20}W,$$

og da $[DFC] = \frac{1}{4}W$, er

$$[DPC] = [DFC] - [CPF] = \frac{1}{4}W - \frac{1}{20}W = \frac{2}{10}W.$$

IV. Til sidst er

$$[APB] = W - [APD] - [BPC] - [DPC] = W - \frac{4}{10}W - \frac{1}{10}W - \frac{2}{10}W = \frac{3}{10}W.$$

Dermed er det ønskede vist.

2. metode.

Vi bruger vektorregning.

Vi sætter

$$\vec{u} = \overline{AB} = \overline{DC} \quad \text{og} \quad \vec{v} = \overline{AD} = \overline{BC}$$

og

$$K = [ABCD] = |\det(\vec{u}, \vec{v})|$$

Vi beviser, at

$$[\Delta BCP] = \frac{1}{10} K, \quad [\Delta CDP] = \frac{1}{5} K, \quad [\Delta ABP] = \frac{3}{10} K, \quad [\Delta ADP] = \frac{2}{5} K.$$

Først fastlægges vektorerne \overline{DP} og \overline{PC} som linearkombinationer af \vec{u} og \vec{v} .

Vi har, at

$$\overline{DF} = \overline{DC} + \overline{CF} = \vec{u} - \frac{1}{2}\vec{v} \quad \text{og} \quad \overline{EC} = \overline{EB} + \overline{BC} = \frac{1}{2}\vec{u} + \vec{v}.$$

Da $\overline{DF} \parallel \overline{DP}$ findes et tal s , så

$$\overline{DP} = s \cdot \overline{DF} = s \cdot \left(\vec{u} - \frac{1}{2}\vec{v}\right),$$

og da $\overline{EC} \parallel \overline{PC}$ findes et tal t , så

$$\overline{PC} = t \cdot \overline{EC} = t \cdot \left(\frac{1}{2}\vec{u} + \vec{v}\right).$$

Vi indsætter det fundne i ligningen

$$\begin{aligned} \overline{DP} + \overline{PC} &= \overline{DC} \Leftrightarrow s \cdot \left(\vec{u} - \frac{1}{2}\vec{v}\right) + t \cdot \left(\frac{1}{2}\vec{u} + \vec{v}\right) = \vec{u} \\ \Leftrightarrow s + \frac{1}{2}t \wedge t - \frac{1}{2}s &= 0 \Leftrightarrow (s, t) = \left(\frac{4}{5}, \frac{2}{5}\right). \end{aligned}$$

Dermed er de ønskede linearkombinationer fundet:

$$\overline{DP} = \frac{4}{5} \left(\vec{u} - \frac{1}{2}\vec{v}\right) = \frac{4}{5}\vec{u} - \frac{2}{5}\vec{v} \quad \text{og} \quad \overline{PC} = \frac{2}{5} \left(\frac{1}{2}\vec{u} + \vec{v}\right) = \frac{1}{5}\vec{u} + \frac{2}{5}\vec{v}.$$

Nu kan vi beregne de relevante arealer:

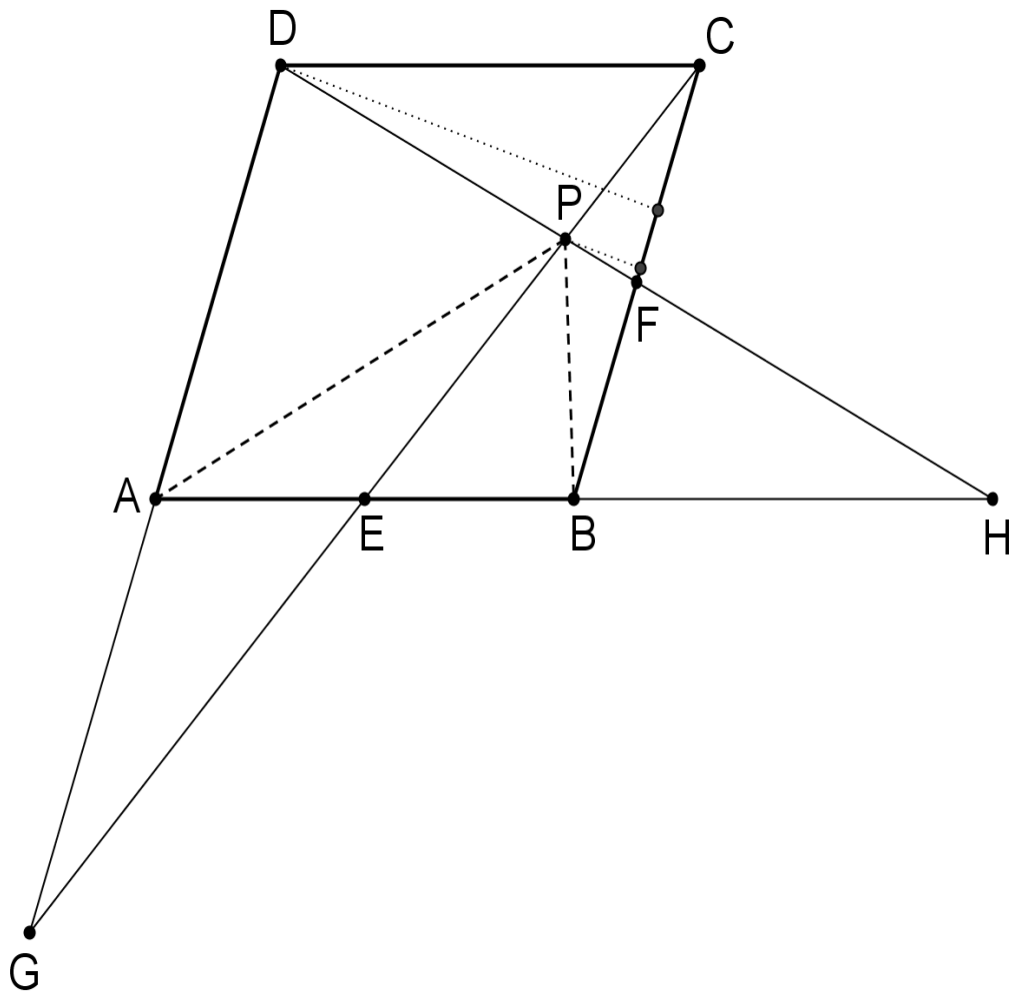
$$\begin{aligned} [\Delta BCP] &= \frac{1}{2} \left| \det(\overline{BC}, \overline{PC}) \right| = \frac{1}{2} \left| \det\left(\vec{v}, \frac{1}{5}\vec{u} + \frac{2}{5}\vec{v}\right) \right| = \frac{1}{2} \left| \frac{1}{5} \det(\vec{v}, \vec{u}) + \frac{2}{5} \det(\vec{v}, \vec{v}) \right| \\ &= \frac{1}{2} \left| \frac{1}{5} \det(\vec{v}, \vec{u}) + 0 \right| = \frac{1}{10} \left| \det(\vec{v}, \vec{u}) \right| = \frac{1}{10} K. \end{aligned}$$

$$\begin{aligned} [\Delta CDP] &= \frac{1}{2} \left| \det(\overline{DC}, \overline{PC}) \right| = \frac{1}{2} \left| \det\left(\vec{u}, \frac{1}{5}\vec{u} + \frac{2}{5}\vec{v}\right) \right| = \frac{1}{2} \left| \frac{1}{5} \det(\vec{u}, \vec{u}) + \frac{2}{5} \det(\vec{u}, \vec{v}) \right| \\ &= \frac{1}{2} \left| 0 + \frac{2}{5} \det(\vec{u}, \vec{v}) \right| = \frac{1}{5} \left| \det(\vec{u}, \vec{v}) \right| = \frac{1}{5} K. \end{aligned}$$

$$\begin{aligned} [\Delta ADP] &= \frac{1}{2} \left| \det(\overline{AD}, \overline{DP}) \right| = \frac{1}{2} \left| \det\left(\vec{v}, \frac{4}{5}\vec{u} - \frac{2}{5}\vec{v}\right) \right| = \frac{1}{2} \left| \frac{4}{5} \det(\vec{v}, \vec{u}) - \frac{2}{5} \det(\vec{v}, \vec{v}) \right| \\ &= \frac{1}{2} \left| \frac{4}{5} \det(\vec{v}, \vec{u}) - 0 \right| = \frac{2}{5} \left| \det(\vec{v}, \vec{u}) \right| = \frac{2}{5} K. \end{aligned}$$

Endelig er

$$[\Delta ABP] = K - \left(\frac{1}{10} K + \frac{1}{5} K + \frac{2}{5} K\right) = \frac{3}{10} K.$$



3. metode.

Linjen DF skærer AB i H og CE skærer DA i G . Vi har, at $\triangle HPE$ og $\triangle DPC$ er ensvinklede. Desuden er $\triangle HFB$ og $\triangle HDA$ ensvinklede og da $BF = \frac{1}{2}AD$, er

$BH = \frac{1}{2}AH$, så $AB = BH$. Da E er midtpunkt af AB , er så

$$EH = \frac{3}{2}AB = \frac{3}{2}CD.$$

Derfor er siderne i $\triangle HPE$ $\frac{3}{2}$ gange så store som siderne i $\triangle DPC$, og derfor gælder for arealerne

$$[HPE] = \left(\frac{3}{2}\right)^2 \cdot [DPC].$$

Vi har, at

$$EH = \frac{3}{2}AB \Leftrightarrow AB = \frac{2}{3}EH,$$

og da $\triangle APB$ og $\triangle HPE$ har samme højde, gælder for arealerne, at

$$[APB] = \frac{2}{3}[HPE] = \frac{2}{3} \cdot \left(\frac{3}{2}\right)^2 \cdot [DPC] = \frac{3}{2} \cdot [DPC].$$

Videre er $\triangle CBE$ og $\triangle GAE$ ensvinklede, og da desuden $BE = EA$, er de kongruente. Altså er $AG = CB = AD$.

$\triangle PCF$ er ensvinklet med $\triangle PGD$ og da

$$DG = 2 \cdot AD = 2 \cdot BC = 4 \cdot CF ,$$

er størrelsesforholdet mellem $\triangle PGD$ og $\triangle PCF$ som 4:1 og dermed

$$[PGD] = 16 \cdot [PCF] . \quad (1)$$

Da A er midtpunkt af DG og F midtpunkt af BC , er

$$[PDA] = \frac{1}{2} \cdot [PGD] \quad \text{og} \quad [PCB] = 2 \cdot [PCF] .$$

Dette giver sammen med (1), at

$$[PCB] = 2 \cdot [PCF] = \frac{1}{8} \cdot [PGD] = \frac{1}{4} \cdot [PDA] .$$

Da $[PDA] = 4 \cdot [PCB]$, er højden fra P i $\triangle PDA$ 4 gange så lang som højden fra P i $\triangle PCB$, fordi de to trekanter har lige lange grundlinjer AD og BC . Heraf følger, at højden fra D i $\triangle CDF$ er 5 gange så lang som højden fra P i $\triangle CPF$. Da begge trekanter har samme grundlinje CF , er

$$[PDC] = 5 \cdot [CPF] \quad \text{så} \quad [PDC] = 4 \cdot [PCB] .$$

Da F er midtpunkt af BC , er

$$[PDC] = 2 \cdot [CPB] .$$

I alt har vi nu fundet, at

$$[PDC] = 2 \cdot [CPB]$$

$$[PAB] = \frac{3}{2} \cdot [PCD] = 3 \cdot [CPB]$$

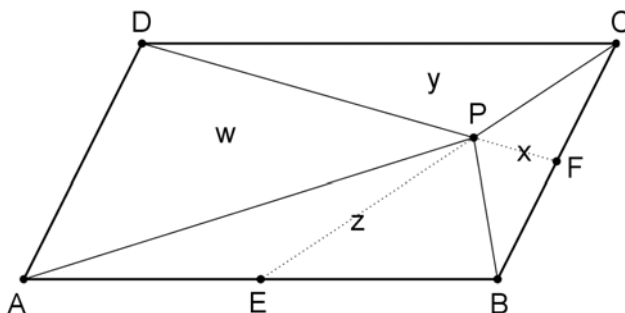
$$[PDA] = 4 \cdot [PCB] .$$

Dette betyder, at arealerne af de 4 trekanter forholder sig som 1 : 2 : 3 : 4.

4. metode.

Lad trekanterne BCP , CDP , ABP og DAP have arealerne x , y , z og w som vist på figuren. Vi vil vise, at $x : y : z : w = 1 : 2 : 3 : 4$

Da $1 + 2 + 3 + 4 = 10$, sætter vi for at få nemme udregninger arealet af parallelogrammet $ABCD$ lig med $10p$, hvor $p > 0$.



Da linjestykkerne AB og CD er lige lange og parallelle, og da deres indbyrdes afstand, som jo er den tilsvarende højde i parallelogrammet, er lig med summen af højderne i $\triangle CDP$ og $\triangle ABP$, er $y + z = 5p$ og på analog måde er $x + w = 5p$.

Parallelogrammet kan deles i fire trekanter kongruente med $\triangle EBC$, som igen kan deles i $\triangle BCP$ og det halve af $\triangle ABP$, og derfor er $x + \frac{1}{2}z = \frac{5}{2}p$, og på analog måde ses det, at $\frac{1}{2}x + y = \frac{5}{2}p$.

Vi har nu ligningssystemet

$$\begin{array}{rcl} y + z & = & 5p \\ x & + & w = 5p \\ 2x & + & z = 5p \\ x + 2y & = & 5p \end{array}$$

Det ses umiddelbart, at

$$(x, y, z, w) = (p, 2p, 3p, 4p)$$

er en løsning til ligningssystemet og hvis dets determinant D er forskellig fra 0, er det også den eneste. Vi finder

$$D = \begin{vmatrix} 0 & 1 & 1 & 0 \\ 1 & 0 & 0 & 1 \\ 2 & 0 & 1 & 0 \\ 1 & 2 & 0 & 0 \end{vmatrix} = 5.$$

Heraf følger, at (2) er den eneste løsning til ligningssystemet.

5. metode.

Et vilkårligt parallelogram kan ved en lige affinitet (med en af parallelgram-siderne, fx AB , som akse) forvandles til et rektangel, og dette kan ved en ret affinitet (med samme parallelograms side som akse og et passende forvandlingstal) forvandles til et kvadrat.

Da begge affiniteter bevarer forhold mellem arealer, og da det er velkendt, at påstanden i opgaven gælder for ethvert kvadrat (hvor de to linjestykker CE og DF jo står vinkelret på hinanden, og trekanterne BCE og DF er kongruente), så gælder den også for ethvert parallelogram.